

Množiny bodů dané vlastnosti

Najdi všechny body v rovině, které mají od daného bodu A vzdálenost 5 cm.



Najdi všechny body v rovině, které mají stejnou vzdálenost od dvou daných bodů A a B.



Autorem materiálu a všech jeho částí, není-li uvedeno jinak, je Hana Pilařová

Materiál byl vytvořen v rámci projektu Základní školy Stráž, okres Tachov, příspěvkové organizace, registrovaným pod názvem „Škola na míru našim dětem“ a číslem CZ.1.07/1.4.00/21.2210



evropský
sociální
fond v ČR



EVROPSKÁ UNIE



MINISTERSTVO ŠKOLSTVÍ,
MLÁDEŽE A TĚLOVÝCHOVY

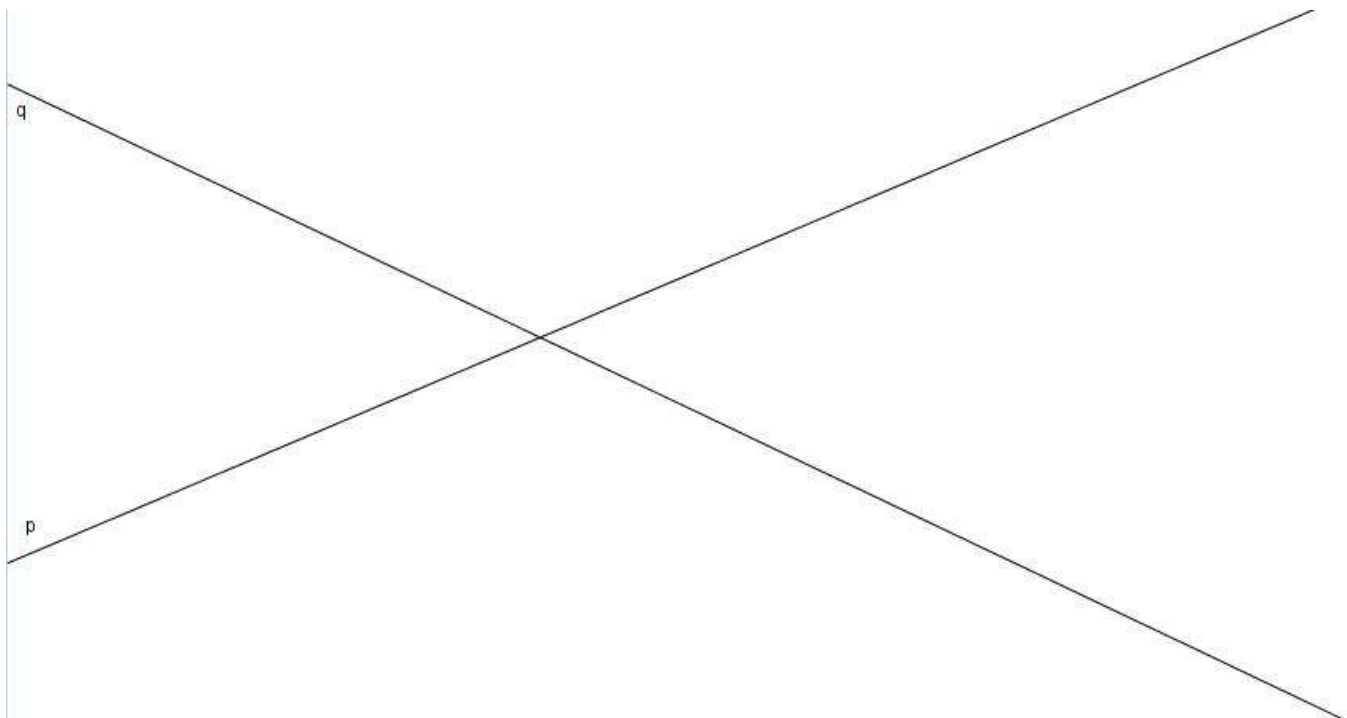


OP Vzdělávání
pro konkurenceschopnost

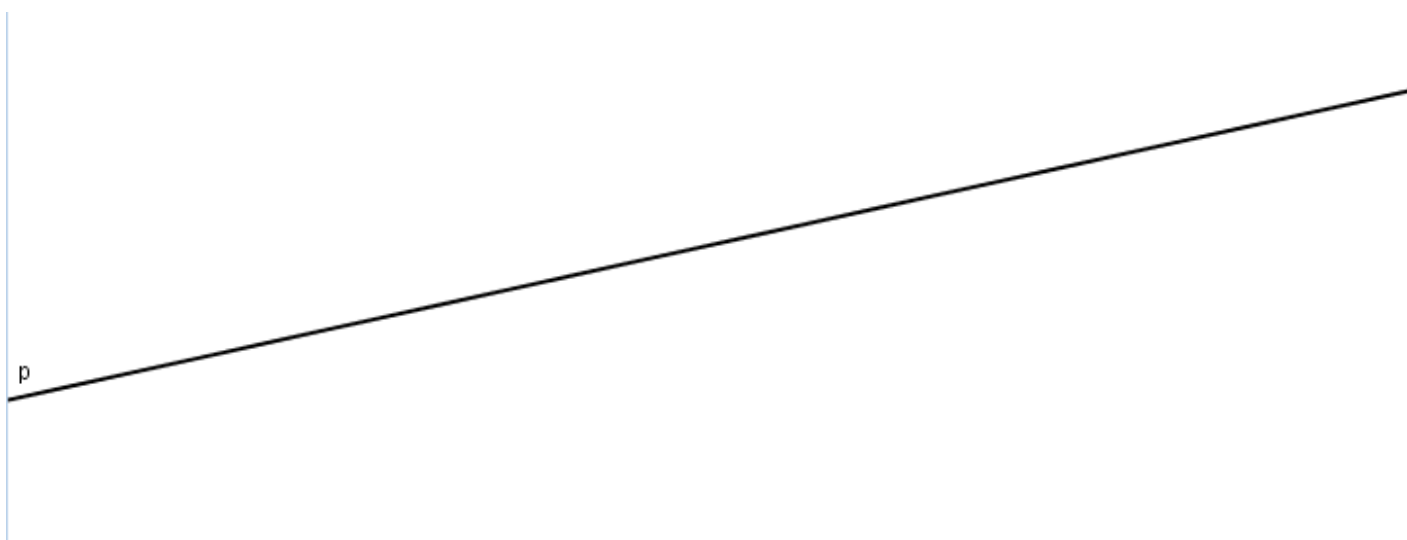
INVESTICE DO ROZVOJE VZDĚLÁVÁNÍ

Množiny bodů dané vlastnosti

Najdi všechny body v rovině, které mají stejnou vzdálenost od dvou daných různoběžek p, q .



Najdi všechny body v rovině, které mají od dané přímky p vzdálenost 2 cm.




Autorem materiálu a všech jeho částí, není-li uvedeno jinak, je Hana Pilařová

Materiál byl vytvořen v rámci projektu Základní školy Stráž, okres Tachov, příspěvkové organizace, registrovaným pod názvem „Škola na míru našim dětem“ a číslem CZ.1.07/1.4.00/21.2210

Množiny bodů dané vlastnosti

Najdi všechny body v rovině, ze kterých je daná úsečka vidět pod úhlem 90° .



Autorem materiálu a všech jeho částí, není-li uvedeno jinak, je Hana Pilařová

Materiál byl vytvořen v rámci projektu Základní školy Stráž, okres Tachov, příspěvkové organizace, registrovaným pod názvem „Škola na míru našim dětem“ a číslem CZ.1.07/1.4.00/21.2210

Množiny bodů dané vlastnosti

SOUHRN:

Autorem materiálu a všech jeho částí, není-li uvedeno jinak, je Hana Pilařová

Materiál byl vytvořen v rámci projektu Základní školy Stráž, okres Tachov, příspěvkové organizace, registrovaným pod názvem „Škola na míru našim dětem“ a číslem CZ.1.07/1.4.00/21.2210