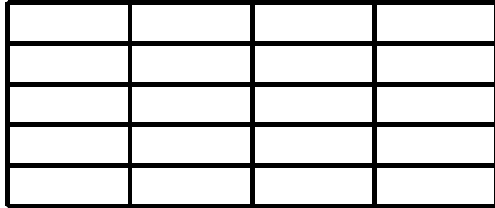
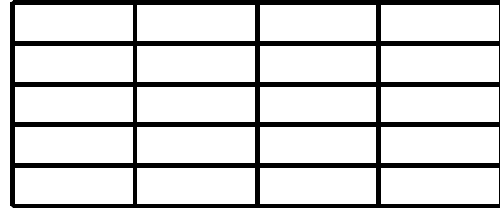


1. Vybarvuj podle zadání a zapiš zlomkem:

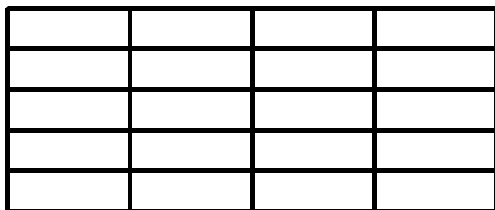
Jedna pětina



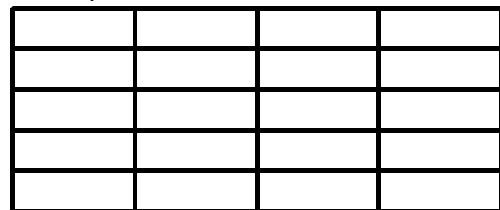
Tři čtvrtiny



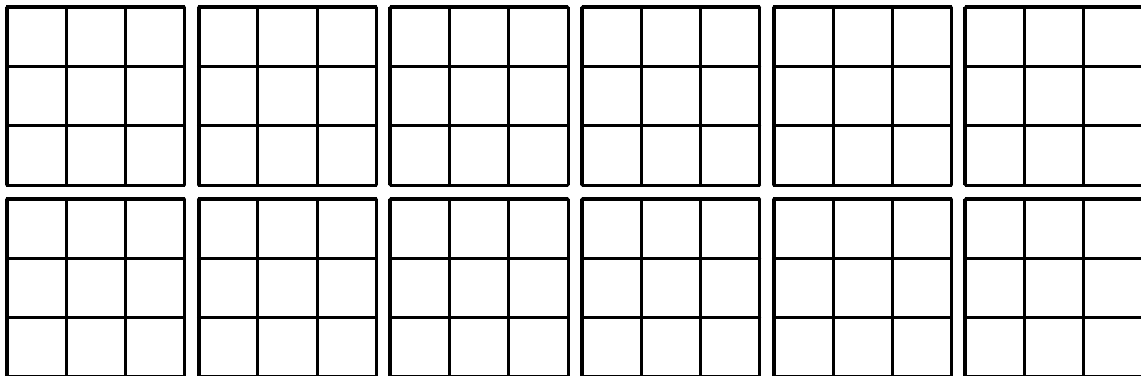
Jedna desetina



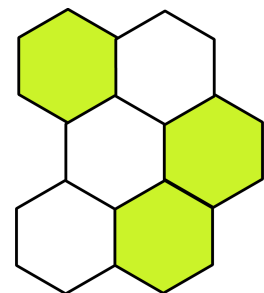
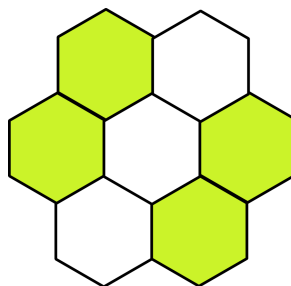
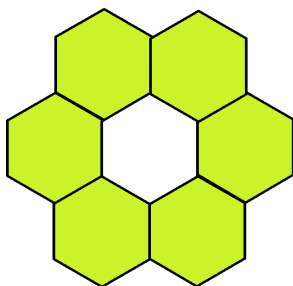
Jedna polovina



2. Kolik najdeš různých způsobů jak vyznačit v následujícím obrázku jednu třetinu?



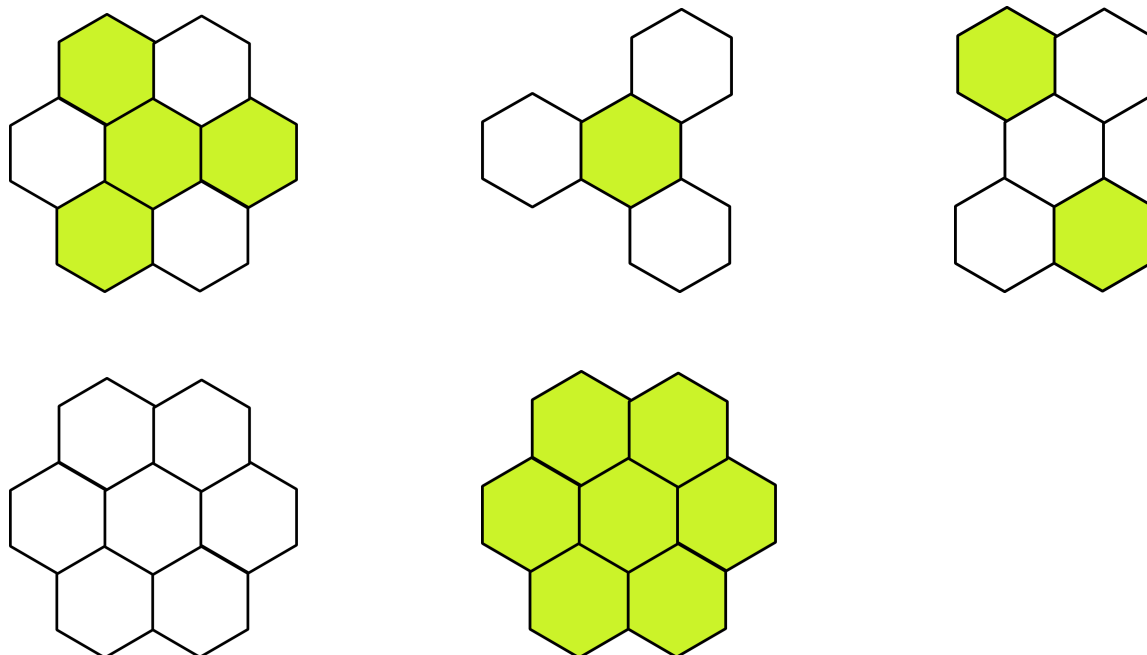
3. Zapiš zlomkem jaká část plástve je vyznačena:



Autorem materiálu a všech jeho částí, není-li uvedeno jinak, je Hana Pilařová

Materiál byl vytvořen v rámci projektu Základní školy Stráž, okres Tachov, příspěvkové organizace, registrovaným pod názvem „Škola na míru našim dětem“ a číslem CZ.1.07/1.4.00/21.2210

Zlomkovnice 1



4. V sadu je třicet jabloní. Na podzim bylo třeba jablka sklídit. První den otrhali polovinu stromů. Druhý den otrhali dvě třetiny zbývajících stromů. Třetí den práci dokončili. Kolik stromů otrhali první, kolik druhý a kolik třetí den?

Autorem materiálu a všech jeho částí, není-li uvedeno jinak, je Hana Pilařová

Materiál byl vytvořen v rámci projektu Základní školy Stráž, okres Tachov, příspěvkové organizace, registrovaným pod názvem „Škola na míru našim dětem“ a číslem CZ.1.07/1.4.00/21.2210